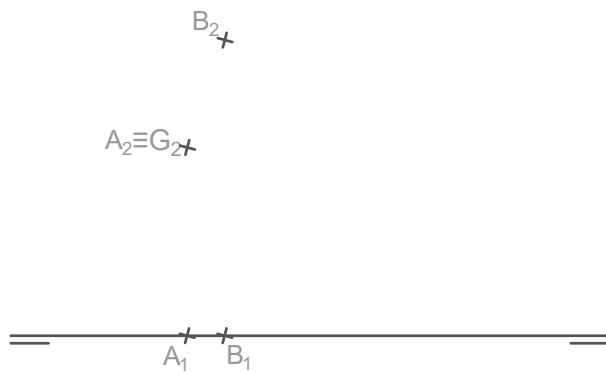
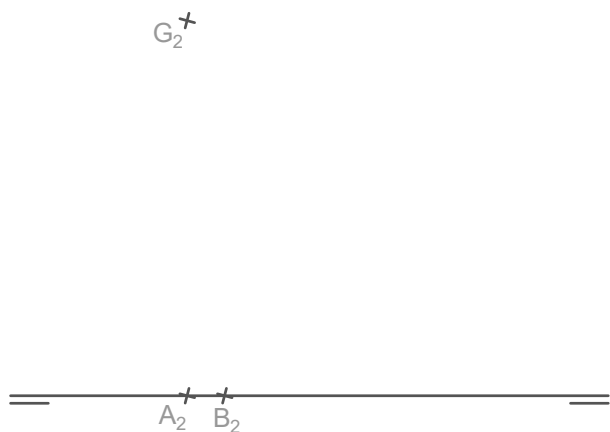


Dibuja el prisma hexagonal que tiene como arista lateral el segmento A-G y arista de la base A-B.

*Recto y está apoyado en el PH*

*Recto y está apoyado en el PV*



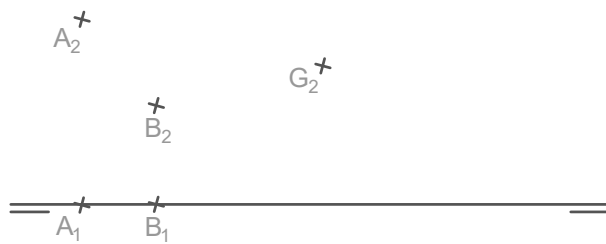
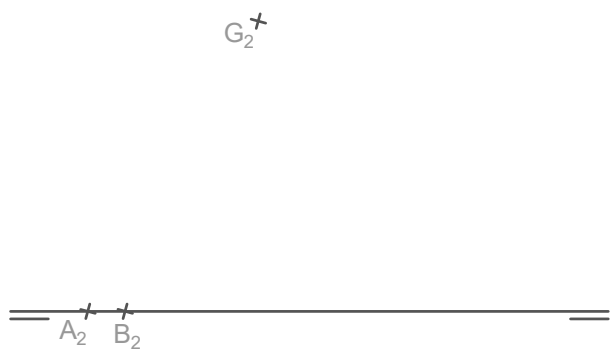
$A_1 \equiv G_1$

$B_1$

$G_1$

*Oblicuo y está apoyado en el PH*

*Oblicuo y está apoyado en el PV*



$A_1$

$G_1$

$B_1$

$G_1$